



نوبت اول دی ماه

پایه : .....

تاریخ امتحان: .....

مدت امتحان : .....

اداره کل آموزش و پرورش استان خراسان رضوی

کارشناسی سنجش و ارزشیابی تحصیلی

اداره آموزش و پرورش شهرستان مشهد

دبستان غیر انتفاعی اندیشمندان پیشرو

نام : .....

نام خانوادگی : .....

نام پدر: .....

نام درس: .....

نام و نام خانوادگی معلم : .....

بارم

1. گلم در جایهای خالی ص: «یکوناری نعلین است که در نهان همان را انجام دهی که در آشکارا انجام می دهی»

ردیف

۱

..... ، ..... ، 10 ، ..... ، ..... ، 7 ، .....

80 ، ..... ، ..... ، ..... ، ..... ، ..... ، 20 ، 10 ، .....

2. با توجه به شکل جدول را کامل کن.

○○○○○○○○○○○○ ○ ○  
○○○○○○○○○○○○ ○ ○  
○○○○○○○○○○○○ ○ ○ ○

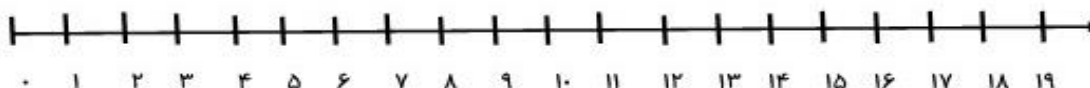
ده تایی	یکی

3. با دو عدد 4 و 6 هرچقدر می توانی عدد دو رقمی بنویس پسرم.

..... ، ..... ، ..... ، .....

4. نازنینم مسئله ی زیر را روی محور انجام بده.

14 پرنده روی درخت بودند ، 6 تا از پرنده ها پرید ، حالا چند پرنده روی درخت مانده است؟



5. حاصل جمع و تفریق های زیر را پیدا کن.

$8+7=$

$13-9=$

$9+9=$

$11-5=$



نوبت اول دی ماه

پایه : .....

تاریخ امتحان: .....

اداره کل آموزش و پرورش استان خراسان رضوی

کارشناسی سنجش و ارزشیابی تحصیلی

اداره آموزش و پرورش شهرستان مشهد

نام : .....

نام خانوادگی : .....

نام پدر: .....

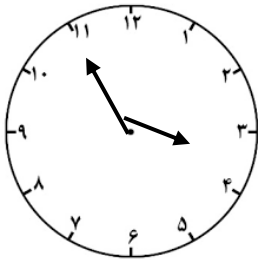
نام درس: .....

6. پسر نازم به تعداد عددهای زیر چوب خط رسم کن.

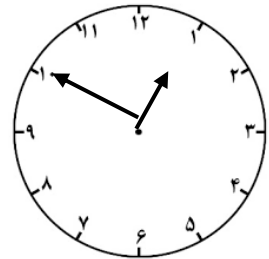
17

23

7. ساعت از چند گذشته؟ ساعت به چند مانده؟



ساعت از چند گذشته؟  
ساعت به چند مانده؟



8. پسر گلم تفریق را با رسم شکل پیدا کن.

$$12_7 =$$

جزوه سیپی

9. به حروف بنویس.

سی و چهار ، سی و پنج ، .....

..... ، .....

10. عزیزم حاصل جمع و تفریق زیر را از طریق (فرایندی) بدست بیاور.

$$\begin{array}{r} 35 \\ + 23 \\ \hline \end{array}$$

$$\begin{array}{r} 76 \\ - 23 \\ \hline \end{array}$$



باسمه تعالی

نوبت اول دی ماه

پایه : .....

تاریخ امتحان: .....

مدت امتحان : .....

اداره کل آموزش و پرورش استان خراسان رضوی

کارشناسی سنجش و ارزشیابی تحصیلی

اداره آموزش و پرورش شهرستان مشهد

دبستان غیر انتفاعی اندیشمندان پیشرو

نام : .....

نام خانوادگی : .....

نام پدر: .....

نام درس: .....

نام و نام خانوادگی معلم : .....

بارم

11. مربع و بیضی اگر چه «شکل‌های کامل‌گون» باشند، اگر در نواحی یکسان را انجام دهی که در آشکارا انجام می‌دهی»


ردیف

۱

..... گوشه ضلع و .....

مربع

دارد



دارد.

..... ضلع و .....

متاثل



12. تقریب های زیر را انجام بده.

26 →

89 →

+ 41 →

- 51 →

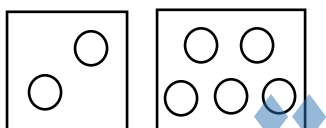
13. خط تقارن شکل زیر را رسم کن.



14. الگوی عددی زیر را ادامه بده.

3 ، 6 ، 9 ، 12 ، ..... ، ..... ، ..... ، ..... ، .....

15. برای شکل زیر یک جمع بنویس گلم.



16. اعداد زیر را با رقم بنویس گلم.

هجده ..... بیست و چهار ..... پنجاه و دو ..... هشتاد .....